



المتميز



كتابي في

جميع المواد

1

انتدائي
AP

- الرياضيات
- اللغة العربية
- التربية الإسلامية
- التربية المدنية
- التربية العلمية
- والتكنولوجية

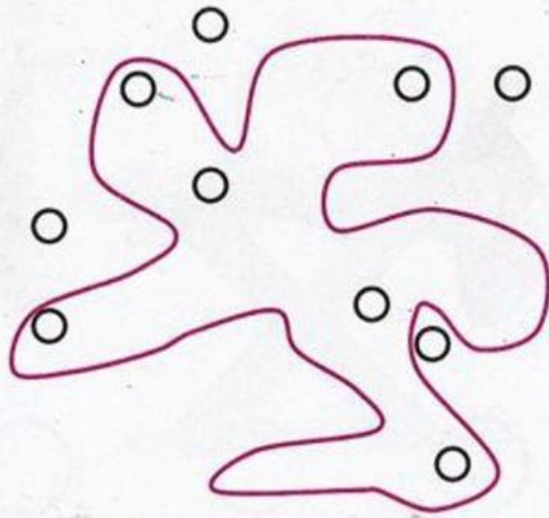
إعداد مجموعة
من الأساتذة

دار الكتب العلمية
للطباعة والنشر والتوزيع

الموضوع الأول


التمرين الأول:

ألَوْنُ الكُرَيَّاتِ المَوْجُودَةِ دَاخِلِ الحَيِّزِ بِالْأَزْرَقِ وَالمَوْجُودَةِ خَارِجَهُ بِالْأَخْضَرِ.



التمرين الثاني:


أَعِدُّ مَا يُوْجَدُ دَاخِلَ كُلِّ حَيِّزٍ وَأَلَوْنُ خَانَةِ العَدَدِ المُنَاسِبِ.



3 5 2



4 1 5



2 3 5



1 4 2

الموضوع الثاني

التمرين الأول:

تَوْنُ بِالْأَزْرَقِ الْكُرَّةَ الْمَوْجُودَةَ عَلَى الطَّائِلَةِ وَبِالْأَصْفَرِ الْكُرَّةَ الْمَوْجُودَةَ تَحْتَ الطَّائِلَةِ:



التمرين الثاني:

أَلْحِظْ ثُمَّ أَصِلْ بَيْنَ كُلِّ مَجْمُوعَةٍ وَالْعَدَدِ الْمُنَاسِبِ:



1



5



3



التمرين الثالث : أحيطُ الجوابَ الصحيح :

الطفلُ يتوجَّهُ : - إلى الأعلى

- إلى الأسفل

البنتُ تتوجَّهُ : - إلى الأعلى


- إلى الأسفل

التمرين الرابع : ألوّن خانة الإجابة الصحيحة.

الدجاجُ أكثرُ مِنَ القِطَطِ. نَعَمْ لا

القِطَطُ أقلُّ مِنَ الأَرانبِ. نَعَمْ لا

يُوجدُ مِنَ الأَرانبِ مِثْلُ ما يُوجدُ مِنَ الدِّجَاجِ. نَعَمْ لا




المتميز في جميع المواد

الموضوع الثالث

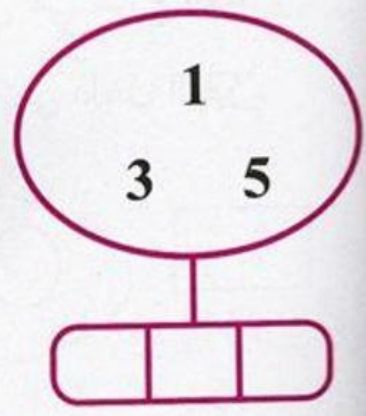
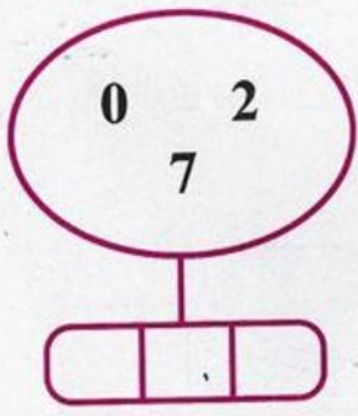
أَكْتُبْ عَدَدَ الْأَشْيَاءِ فِي كُلِّ بَطَّاقَةٍ.

التمرين الأول:



أَلْحِظْ وَارْتَبِّبْ الْأَعْدَادَ مِنَ الْأَصْغَرِ إِلَى الْأَكْبَرِ:

التمرين الثاني:



المتميز في جميع المواد


التمرين الثالث : ألون الجواب الصحيح :



- (1) الخبز على الطاولة. لا نعم
- (2) الدجاجة فوق الطاولة. لا نعم
- (3) الفراشة تحت الطاولة. لا نعم

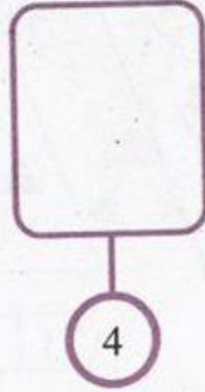
التمرين الرابع :

- ألون بالأصفر الأشكال التي هي خارج الحيز.
- ألون بالأزرق الأشكال التي هي داخل الحيز.




الموضوع الرابع

أكمل رسم المثلثات بقدر العدد المكتوب :



ضع علامة (×) في المكان المناسب :



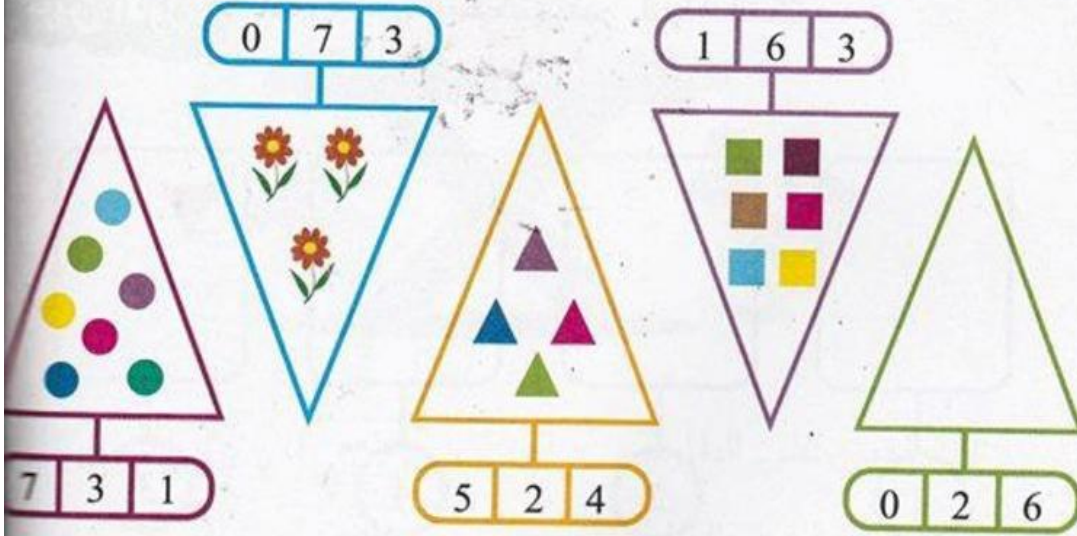
• الفراشة فوق الفيل.

لا نعم

• الفراشة تحت الفيل.

لا نعم

التمرين الثالث : أُلَوِّن بِطَاقَةَ الْعَدَدِ الْمُنَاسِبِ.



التمرين الرابع : أَرْتِبْ أَشْجَارَ النَّخِيلِ مِنَ الْأَقْصَرِ إِلَى الْأَطْوَلِ.



المتميز في جميع المواد

الموضوع الخامس

ألَوْنُ بِالْأَزْرَقِ الْكُرَاتِ الْمَحْمُولَةَ بِالْيَدِ الْيُمْنَى
وَبِالْأَصْفَرِ الْكُرَاتِ الْمَحْمُولَةَ بِالْيَدِ الْيُسْرَى.

تمرين الأول:



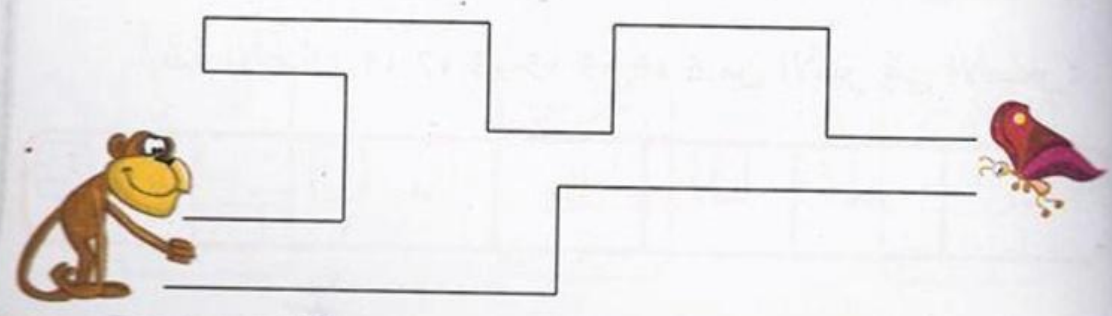
تمرين الثاني:

أَضَعُ حَيْزًا حَوْلَ الْأَشْكَالِ الْمَلَوْنَةِ بِالْأَحْمَرِ وَحَيْزًا حَوْلَ الْأَشْكَالِ
الْمَلَوْنَةِ بِالْأَزْرَقِ وَحَيْزًا آخَرَ حَوْلَ الْأَشْكَالِ الْخَضْرَاءِ.



لَوْنُ بِالْأَخْضَرِ الطَّرِيقَ الْقَصِيرَ الَّذِي يَسْلُكُهُ الْقَرْدُ
لِلْوَصُولِ إِلَى الْفَرَّاشَةِ:

تمرين الثالث:



الموضوع السادس

التمرين الأول: أضع علامة × على الأشياء الزائدة:



7



8



9

التمرين الثاني:


أرتب الأعداد: 3، 1، 7، 8، 5، 9، 2 من الأصغر إلى الأكبر:

...
-----	-----	-----	-----	-----	-----	-----

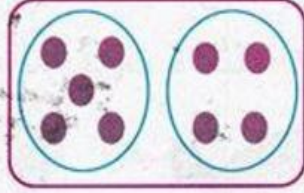
أرتب الأعداد: 4، 7، 3، 5، 9، 0، 6 من الأكبر إلى الأصغر:

...
-----	-----	-----	-----	-----	-----	-----

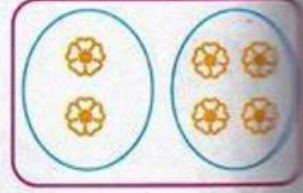
تمرين الثالث: أَلْخِظْ وَأَصِلْ كُلَّ بَطَّاقَةٍ بِالْكَتَابَةِ الْجَمْعِيَّةِ الْمُنَاسِبَةِ:



$5+4$



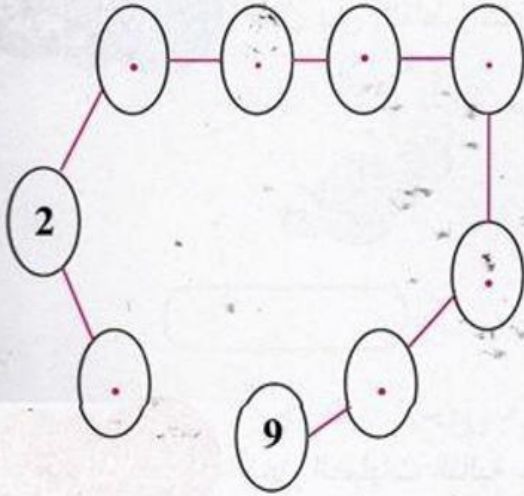


$3+6$



$2+4$

تمرين الرابع: اكْمِلْ كِتَابَةَ الْأَعْدَادِ مُرْتَبَةً فِي الْأَقْرَاصِ نَحْمُ الْوُثْهَاءِ:



تمرين الخامس: لَوِّنِ الْخَانَةَ الْمُنَاسِبَةَ.



الموضوع السابع

التمرين الأول: أرتب أثمان اللعب التالية من الأكبر إلى الأصغر:



65 ديناراً



89 ديناراً




54 ديناراً



90 ديناراً

..

التمرين الثاني: أصل بين النقاط وأكتب اسم المصنع المتحصل عليه:



التمرين الثالث: أنجز العمليات التالية عمودياً ثم أفقياً.

$$\begin{array}{r} 43 \\ + \dots \\ \hline = 78 \end{array}$$

.. + .. = ..

$$\begin{array}{r} 12 \\ + 57 \\ \hline = \dots \end{array}$$

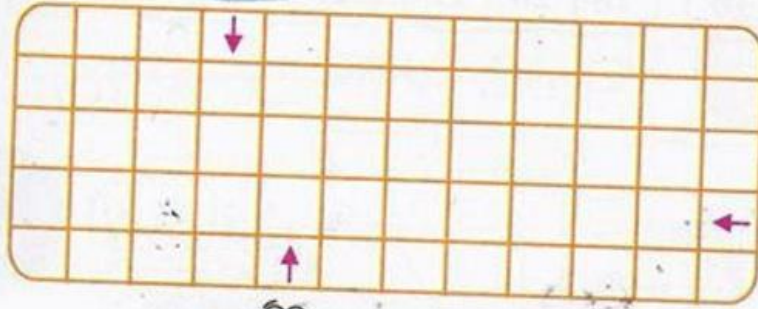
.. + .. = ..

$$\begin{array}{r} 65 \\ + 16 \\ \hline = \dots \end{array}$$

.. + .. = ..

التمرين الرابع :

ضع إشارة ■ في خانة التقاء طريقي العصفور والأرنب وإشارة ● في خانة التقاء طريقي العصفور والسلحفاة.



شكل:

عند رضا 17 كرة، لعب مع أصحابه وريح 22 كرة.


كم كرة صارت عند رضا؟

$$\begin{array}{r} + \quad \dots \\ \quad \dots \\ \hline = \quad \dots \end{array}$$

صارت عند رضا كرة

الموضوع الثامن

التمرين الأول: أَلَوْنُ خَاتَةِ الْعَدَدِ الْمُنَاسِبِ:



التمرين الثاني: أَلَا حِظُّ وَأَكْمِلُ:


العَدَدُ	رَقْمُ العَشْرَاتِ	رَقْمُ الوَحَدَاتِ	عَدَدُ الوَحَدَاتِ
14	1	4	14
12
16
...	1	7	..
..	19

تمرين الثالث :

اكتب العدد أو أكمل الرسم:



10 + 3




...



12

ألاحظ وألون خانة الإجابة الصحيحة:

تمرين الرابع :



- لا نَعَمْ - الطيور على نفس الاستقامة.
- لا نَعَمْ - الجمال على نفس الاستقامة.
- لا نَعَمْ - الأشجار على نفس الاستقامة.

الموضوع التاسع

التمرين الأول: أكمل:


العَدَدُ الَّذِي يَسْبِقُهُ	العَدَدُ	العَدَدُ الَّذِي يَلِيهِ
...	13	...
...	16	...
...	19	...
...	11	...

التمرين الثاني:

اكتب عدد الأشياء في كل بطاقة وأرتب هذه الأعداد في الشريط من الأصغر إلى الأكبر:



...



...



12

... ..

تمرين الثالث : أربط الأعداد بخط حسب ترتيبها من الأصغر إلى الأكبر:



التمرين الرابع : الأخط المثل ثم أكمل:

21	$20 + 1$	$10 + 10 + 1$
25	$.. + .$	$.. + .. + .$
29	$.. + .$	$.. + .. + ..$
..	$20 + 3$	$.. + .. + .$
..	$.. + .$	$10 + 10 + 7$

تمرين الخامس :

أرتب الأعداد 9، 18، 22، 17، 5، 25، 13 من الأصغر إلى الأكبر:

..
----	----	----	----	----	----	----

أرتب الأعداد 30، 3، 29، 27، 14، 23، 17، 7 من الأكبر إلى الأصغر.

..
----	----	----	----	----	----	----	----

الموضوع العاشر


التمرين الأول:

- لَوْنُ بِالْأَزْرَقِ الْخَانَةَ الْوَاقِعَةَ فِي السَّطْرِ 2 وَفِي الْعَمُودِ 4.
- لَوْنُ بِالْأَخْضَرِ الْخَانَةَ الْوَاقِعَةَ فِي السَّطْرِ 3 وَفِي الْعَمُودِ 5.
- ضَعُ الْإِشَارَةَ × فِي الْخَانَةِ الْوَاقِعَةَ فِي السَّطْرِ 1 وَفِي الْعَمُودِ 2.

3					
2					
1					
	1	2	3	4	5

التمرين الثاني :

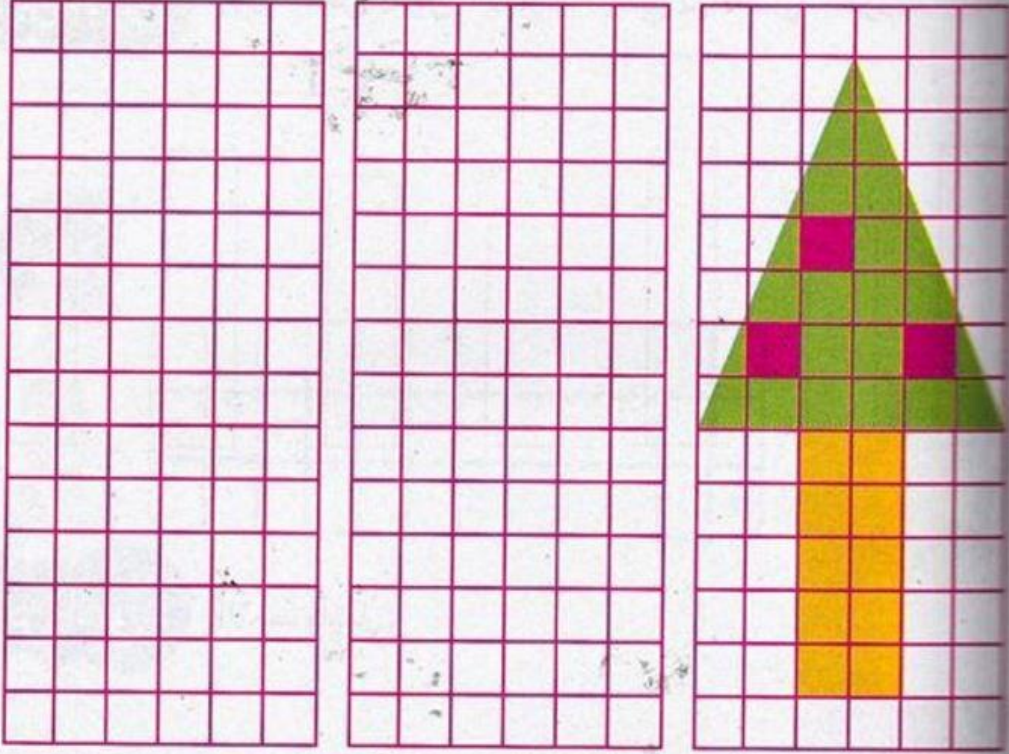
أَكْمِلْ بِإِحْدَى الْعِبَارَتَيْنِ: أَثْقَلُ مِنْ، أَخْفُ مِنْ :



- الفَرَاشَةُ الْأَرْزَبِ.
الْكَبْشُ الْكَلْبِ.
الْكَبْشُ الْبَقْرَةَ.
الْكَلْبُ الْأَرْزَبِ.

التميز في جميع المواد

تمرين الثالث : ألاحظ وأكمل الرسم على المرصوفتين ثم ألون:

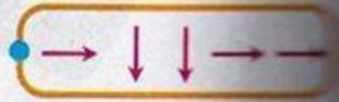



تمرين الرابع : تتبع فلة المسلك الممتلئ بالأسهم.




فلة

تتبع هذا المسلك والزهرة التي تصل إليها.



الموضوع الحادي عشر

التمرين الأول: لَوْنُ بِنَفْسِ اللَّوْنِ الْأَشْرَطَةِ الَّتِي لَهَا نَفْسُ الطُّوْلِ:



التمرين الثاني: الْأَحْظُ وَأَكْمَلُ:




ماي 2014	
السَّبْتُ	24
الأَحَدُ	...
.....
.....
.....
.....
.....

التميز في جميع المواد

أرسم الطريق الذي يؤدي إلى الكنز:

تمرين الثالث:



تمرين الرابع:

باع تاجر 45 حبة موز صباحا و 32 حبة موز بعد الظهر .
كم حبة موز باعها التاجر في اليوم ؟



أضع العملية عموديا و أنجزها :

$$\begin{array}{r}
 \dots\dots\dots \\
 + \quad \dots\dots\dots \\
 \hline
 = \quad \dots\dots\dots
 \end{array}$$

الإجابة :

باع التاجر حبة موز في اليوم.

الموضوع الثاني عشر

أكمل الكتابة:







التمرين الأول:

83	8 عَشْرَات و 3 وَحَدَات	$80 + 3$
95	. عَشْرَات و . وَحَدَات	$.. + .$
...	. عَشْرَات و . وَحَدَات	$80 + 7$
90	. عَشْرَات و . وَحَدَات	$.. + .$
..	7 عَشْرَات و 3 وَحَدَات	$.. + .$

أرسم الأشكال في المرصوفة :


التمرين الثاني:

4	3	2	1	
				أ
				ب
				ج
				د
				هـ

3	هـ	
2	أ	
4	د	
3	ب	
4	ج	
1	د	

أرسم المسلك الذي يسلكه الأرنب إلى الجزرة.

تمرين الثالث :



تمرين الرابع :

اشترى أحمد طائرة ثمنها 54 ديناراً، و سيارة صغيرة ثمنها 45 ديناراً.



54 ديناراً



45 ديناراً

$$\begin{array}{r} \dots\dots\dots \\ + \dots\dots\dots \\ \hline = \dots\dots\dots \end{array}$$

احسب ثمن كل ما اشتراه أحمد.

ثمن الطائرة و السيارة معا هو :

مرحبا بكم علي منصة مراجعة



COLLEGE.MOURAJAA.COM



NEWS.MOURAJAA.COM

